

令和6年度
高田中学校
入学試験問題
社会

《注意事項》

- 1 問題用紙は、試験開始の合図があるまで開いてはいけません。
- 2 解答用紙は、問題用紙にはさんであります。
- 3 試験開始の合図で、解答用紙に受験番号と名前を書いてください。
- 4 答えは解答用紙の解答らんに、はっきりと書いてください。
- 5 問題用紙にメモなどの書きこみをしてかまいません。
- 6 試験終了後、この問題用紙は持ち帰ってください。

【1】小学5年生のアオイさんたちは、「わたしたちの生活と食料生産」について授業で学びました。これについて、あとの問いに答えなさい。

問1 アオイさんは、日本の農業生産額について調べました。これについて、あとの問いに答えなさい。

表1 日本の主な農産物の生産額の変化と割合 (%)

	農業生産額 (億円)					
	A (%)	野菜 (%)	B (%)	C (%)	その他 (%)	
1980年	102,625	31.4	18.5	30.1	6.7	13.3
2000年	91,295	26.9	23.2	25.4	8.9	15.6
2010年	82,551	32.1	27.2	19.0	9.1	12.6
2020年	89,557	36.0	25.1	18.5	9.8	10.6

(「2023 データブック オブ・ザ・ワールド」)

a. 表1中のA～Cは米、果実、畜産物のいずれかです。A～Cの正しい組み合わせを、次のア～カから1つ選び、記号で答えなさい。

	ア	イ	ウ	エ	オ	カ
A	米	米	果実	果実	畜産物	畜産物
B	果実	畜産物	米	畜産物	米	果実
C	畜産物	果実	畜産物	米	果実	米

b. 野菜の生産について書かれた文Ⅰ・Ⅱの正誤の組み合わせとして正しいものを、次のア～エから1つ選び、記号で答えなさい。

Ⅰ. 野菜の生産額を1980年と2020年とで比べると、2020年の方が小さい。

Ⅱ. 野菜の生産額を都道府県別に比べると、東京都や大阪府が多く、北海道は少ない。

ア. Ⅰ—正 Ⅱ—正

イ. Ⅰ—正 Ⅱ—誤

ウ. Ⅰ—誤 Ⅱ—正

エ. Ⅰ—誤 Ⅱ—誤

問2 60年ほど前から、米の生産量が消費量を上回り、米が余るようになってきました。そこで、生産調整が行われるようになり、多くの農家が米以外の農作物をつくるようになりました。これについて、あとの問いに答えなさい。

a. 作物の種類を、それまでのものから他のものに変えることを何といいますか。

b. 米の消費量は、戦後の食生活の変化に伴い減少してきました。これに対して、政府は生産量の調整を行い、バランスをとってきました。しかし、2020年以降、特に大量に余る状態となりました。これはどのような理由が考えられますか。簡単に説明しなさい。

問3 コウキさんは、キャベツの栽培について調べました。キャベツがよく育つ温度は約15～20℃で、涼しい気候を好みます。そのため、季節によって、収穫され市場であつかわれる産地が異なります。次ページの表2は、季節ごとのキャベツの生産量と生産量の多い都道府県を表したものです。表2中のX、Yにあたる都道府県名を答えなさい。

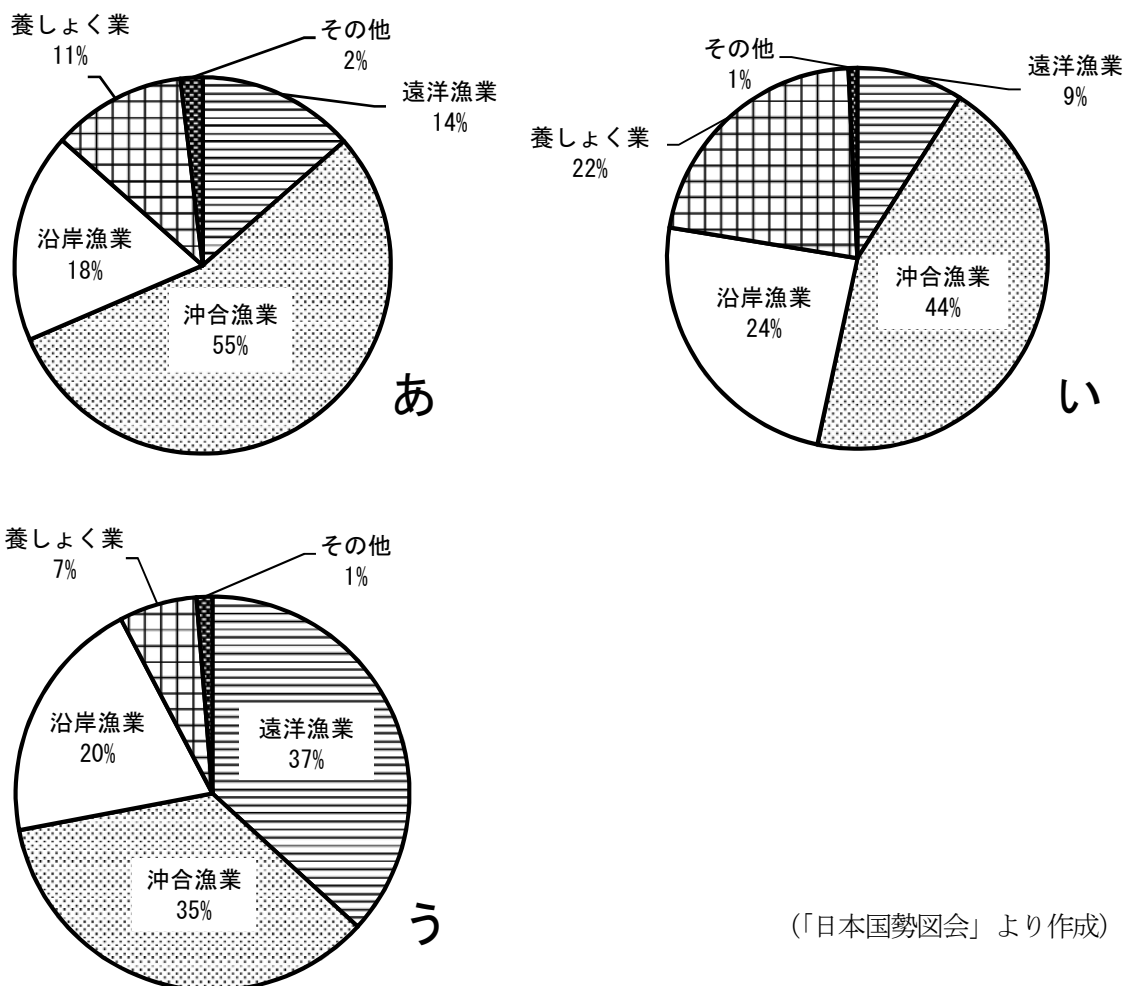
表2 季節ごとのキャベツの生産量と生産量の多い都道府県

	1位	2位	3位	4位	5位	その他	生産量
春キャベツ (主に4月～6月に出荷)	X 17.2	千葉 15.6	茨城 13.0	神奈川 11.3	鹿児島 5.1	37.8	35.7万トン
夏秋キャベツ (主に7月～10月に出荷)	Y 51.9	長野 12.7	北海道 9.0	岩手 5.6	茨城 4.2	16.6	50.1万トン
冬キャベツ (主に11月～3月に出荷)	X 33.7	鹿児島 9.5	千葉 8.7	茨城 6.2	神奈川 3.6	38.3	61.4万トン

※ 都道府県名の下に数字は、生産量全体にしめる各都道府県の割合(%)を表す。

(2019年 「作物統計調査」)

問4 カナデさんは水産業について調べました。次のあ～うのグラフは、1970年、1990年、2010年における漁業・養しよく業の生産量にしめる漁業別生産量と養しよく業生産量の割合を表したものです。あ～うのグラフを古い順にならべかえ、記号で答えなさい。



問5 食生活が豊かになる一方で、消費者への食の安全・安心への関心が高まっています。農産物や畜産物の生産者や栽培・飼育の記録、加工・流通・販売の様子などがわかり、消費者が安心して買うことができるしくみを何といいますか。

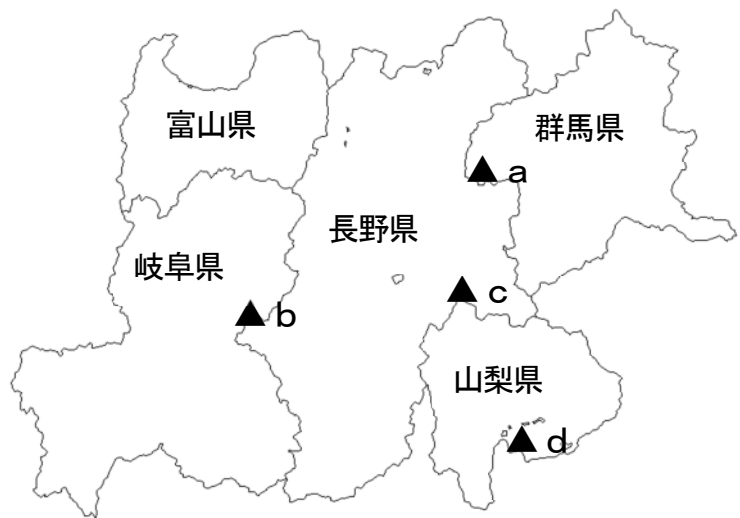
【2】日本の国土や気候と自然災害についての文章を読んで、あとの問いに答えなさい。

日本の国土には、多くの山地や山脈がみられます。とくに、本州の中央部には高さ 3000m ぐらいのけわしい山々がそびえていて、「日本の屋根」と呼ばれています。また、日本列島には①火山もあります。他にも、多くの②河川や平野、湖などが各地でみられ、③豊かな自然が特徴です。

④日本の気候の特色は四季の変化があることです。また、6月から7月にかけて梅雨があり、雨の降る日が続きます。夏から秋にかけては、台風が日本をおそいます。梅雨や台風は、わたしたちのくらしや農業などに必要な水をもたらしますが、大雨による水や山くずれなどの自然災害を引き起こし、人々のくらしや農作物などに大きな被害をあたえることがあります。

大雨や台風による風水害だけでなく、大雪による雪害、火山災害、地震災害や津波災害など、⑤日本はさまざまな自然災害が起きる国であり、今後、起きる可能性のある自然災害に備えておかねばなりません。また、国や都道府県、地域などの防災の取り組みについて、日ごろから理解しておくことも必要です。

問1 下線部①について、日本にはたくさんの火山がみられ、これまでに何度も噴火がありました。2014年に噴火した御嶽山おんたけさんでは、登山者が60人以上死亡または行方不明の被害にあいました。御嶽山の位置を、次の地図中のa～dから1つ選び、記号で答えなさい。



問2 下線部②について、河川は下流に大きな平野をつくるものもみられます。次の表1は米の収穫量が多い5道県の主な河川と平野をまとめたものです。表1中の(あ)～(え)にあてはまる語句を答えなさい。

表1

	米の収穫量 (千t)	河川名	流域の主な平野
1位	631	信濃川	(あ)平野
2位	553	石狩川	石狩平野
3位	457	雄物川	(い)平野
4位	365	(う)川	庄内平野
5位	327	(え)川	仙台平野

(2022年 「作物統計調査」)

問3 下線部③について、令和5年12月末の時点で世界自然遺産がない都道府県を、次のア～クから**すべて**選び、記号で答えなさい。

- ア. 北海道 イ. 青森県 ウ. 岩手県 エ. 秋田県 オ. 東京都
カ. 京都府 キ. 鹿児島県 ク. 沖縄県

問4 下線部④について、富山県西部の^{となみ}砺波平野では、次の図のように、建物の敷地^{しきち}の西側や南側に、「カイニョ」と呼ばれる杉などの高い木が植えられています。これらは、強い風や暑さ寒さをやわらげる役割を果たしています。次の地図と図を参考にして、この地域の気候の特色について説明しなさい。



問5 下線部⑤について、こう水や津波、地震のゆれなどの自然災害による被害のはんいや危険な場所などを予想した地図を何とといいますか。

【3】わたしたちのくらしは、電気によって支えられています。これらの電気は、どこで作られ、どのように送られてくるのでしょうか。ヒサシさんは、水力発電、火力発電、原子力発電、その他の発電の内容や発電方法をあ～えの4枚のカードにまとめました。これについて、あとの問いに答えなさい。

あ

- 燃料に限りがあり、日本はほとんどを輸入に頼っている。
- 燃料が①石炭や石油の場合、地球温暖化の原因の一つとされている（ X ）を多く出す。

い

- 燃料を輸入に頼っている。
- （ Y ）燃料を利用して、発生させた熱で発電し、発電の時に（ X ）を出さない。
- 燃料や廃棄物のあつかいが難しく、事故が起きると大きな被害が長く続く。

う

- 水が流れる力を使って発電するため、発電の時に燃料を使わない。そのため、（ X ）を出さないクリーンな発電である。
- ダムを作るときに、環境にえいきょうをあたえる。

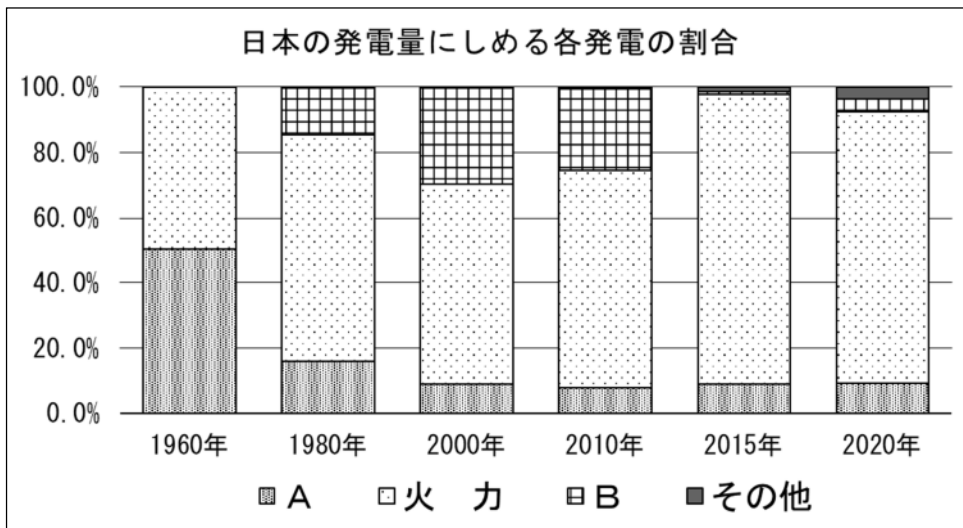
え

- ②太陽や風、地熱など、エネルギーとして半永久的に利用することができる。
- 発電の時に（ X ）を出さない、大きな施設を必要としないなどの利点がある。

問1 カードの文中の（ X ）・（ Y ）にあてはまる語句を答えなさい。

問2 次の図1は、日本の発電量に占める各発電の割合を表したものです。これについて、あとの問いに答えなさい。

図1



※ 図1中の「その他」の発電は、風力、太陽光、地熱発電を合わせたもの。
 (「2023 データブック オブ・ザ・ワールド」)

- 図1中のAの発電の内容を表すカードをあ～えから1つ選び、記号で答えなさい。
- 2010年から2015年にかけて、Bの割合が減少したのはどのような理由からですか。簡単に説明しなさい。

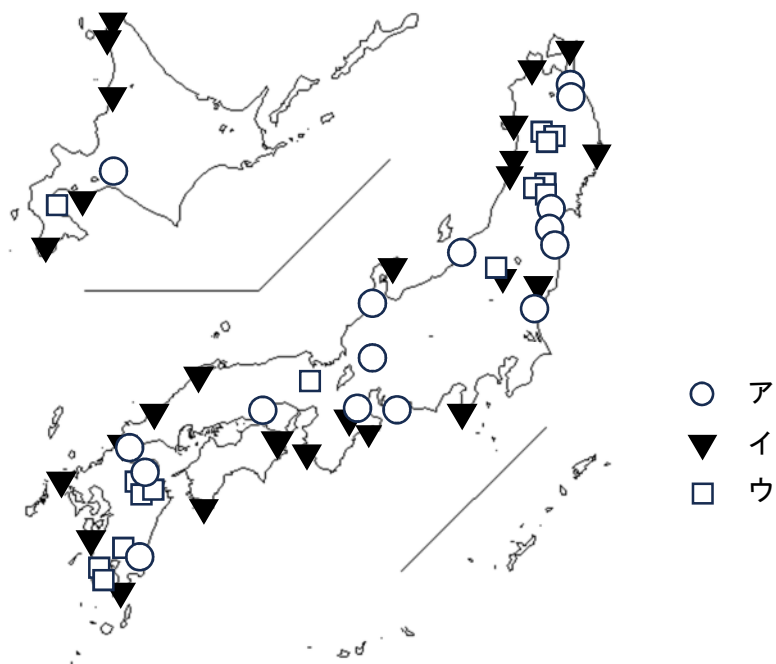
問3 下線部①について、次の表1は、日本の石炭、石油、液化天然ガスの輸入上位国とそれぞれの輸入量に
しめる各国の割合 (%) です。石炭にあたるものを、A～Cから1つ選び、記号で答えなさい。

表1

	A		B		C	
1 位	サウジアラビア	39.7	オーストラリア	65.4	オーストラリア	35.8
2 位	アラブ首長国連邦	34.7	インドネシア	12.4	マレーシア	13.6
3 位	クウェート	8.4	ロシア	10.8	カタール	12.1
4 位	カタール	7.6	アメリカ合衆国	5.3	アメリカ合衆国	9.5
5 位	ロシア	3.6	カナダ	4.2	ロシア	8.8

(2021年、「2023 データブック オブ・ザ・ワールド」)

問4 下線部②について、次の図中のア～ウは、主な太陽光発電所、風力発電所、地熱発電所の分布を表して
います。風力発電所を表すものをア～ウから1つ選び、記号で答えなさい。



問5 作り出された電気は送電線を通じて各地に送られ、各家庭では電化製品を動かし、わたしたちの暮らしを支えてくれます。これらのものには、電気を伝えやすい銅線が用いられています。次の表2は、日本の歴史に登場した主な鉱山です。また、下の地図中のア～オは、主な金山、銀山、銅山の位置を表しています。これについて、あとの問いに答えなさい。

表2

鉱山の分類	鉱山名	場 所
金 山	黒川金山	ア
	佐渡金山	(B)
銀 山	石見銀山	(C)
銅 山	(A) 銅山	ウ
	別子銅山	(D)



※ 上記の地図の縮尺は、各県ごとに異なる。

- 表2中の (A) にあてはまる鉱山名を答えなさい。
- 表2中の (B)・(C)・(D) にあてはまる鉱山の場所を、地図中のイ、エ、オからそれぞれ1つずつ選び、記号で答えなさい。ただし、**同じ記号を2回用いてはいけません。**

【4】日本と似ている政治体制の国であるイギリスの女王が、2022年に亡くなりました。その^{こくそう}国葬に関する新聞記事から^{ぼんすい}抜粋した次の文章を読んで、あとの問いに答えなさい。

エリザベス女王 国葬

9月8日に96歳で亡くなった①イギリスのエリザベス女王の国葬が19日、首都・ロンドンのウェストミンスター寺院で行われました。エリザベス女王は、イギリス史上最も長い70年もの間、君主を務め、たくさんの人に親しまれました。葬儀には、(1) 国王やトラス②首相などイギリス国内からだけではなく、アメリカの(2) 大統領をはじめ、世界200か国・地域からおよそ2000人が集まりました。日本からは③天皇皇后両陛下が参列されました。(読売KODOMO新聞2022年9月22日)

問1 文中の(1)・(2)にあてはまる人物を答えなさい。

問2 下線部①について、2023年7月にイギリスが加入することを正式に決めた国際的な結びつきとして正しいものはどれですか。次のア～エから1つ選び、記号で答えなさい。

- ア. 環太平洋パートナーシップ協定
- イ. 北大西洋条約機構
- ウ. ヨーロッパ連合
- エ. 国際連合(国連)

問3 下線部②について、日本における首相を説明する次の文中の(あ)～(う)にあてはまる語句の組み合わせとして正しいものを、下のア～エから1つ選び、記号で答えなさい。

日本の首相は、(あ)に指名されて、(い)に任命されます。そして、首相は専門的な仕事を担当する国務大臣を任命して(う)をつくります。

- ア. あー国会 いー天皇 うー内閣
- イ. あー内閣 いー天皇 うー国会
- ウ. あー国会 いー国民 うー内閣
- エ. あー内閣 いー国民 うー国会

問4 下線部③について、天皇の地位を説明する次の文中の(え)～(か)にあてはまる語句を答えなさい。

天皇は日本の国や国民のままとりの(え)であり、その地位は、国民全体の理解にもとづく定められています。(え)である天皇には、国の政治に関する権限はなく、内閣の(お)と(か)にもとづいて、憲法で定められた仕事を行います。

【5】ミキさんは、「日本における女性の活躍」の歴史をテーマに夏休みの自由研究を行い、メモにまとめました。メモをもとにして、あとの問いに答えなさい。(資料は一部、省略してあります。)

〈メモ1〉

平安時代では、漢字からできたかな文字を使うことで自分の気持ちを細かく表現できるようになったため、朝廷に仕える女性たちは、多くの①文学作品をつくった。天皇のきさきに仕えた紫式部は「源氏物語」を書き、その作品は現在も世界の国々で読まれている。

右の図は「②源氏物語絵巻」で、宮中で働く女性たちの様子がえがかれている。



〈メモ2〉

③鎌倉幕府を開いた源頼朝が亡くなった後、幕府の政治を支えたのが北条氏であった。頼朝の妻北条政子は、朝廷から幕府をたおせという命令が鎌倉武士たちに伝えられたときに、頼朝の(1)を次のように説いた。

「頼朝どのが④平氏を滅ぼして鎌倉に幕府を開いてからの(1)は、山よりも高く海よりも深いものである。名誉を大切にする者は、早く敵をうちとり、幕府を守りなさい。」

政子の声かけもあって、武士たちは(2)をちかい、京都にせめ上り、朝廷軍を武力でおさえた。

〈メモ3〉

(3)年にヨーロッパで⑤第一次世界大戦が起こると、日本も戦争に加わり、戦勝国の一つとなった。その後、⑥人々の民主主義への意識が高まり、普通選挙を求める運動が展開された。女性の地位向上をめざす運動も進められ、⑦平塚らいてうや市川房枝などが中心となり、女性の権利を守ることをうったえた。

また平塚は、雑誌「青鞜」において次のような言葉を残し、女性の解放をうったえた。

「大昔から、女性は太陽のようであった。いつわりがなかった。今、女性は(4)である。他の光によってかがやく、病人のような青白い(4)である。」

〈メモ4〉新聞記事より

9つの⑧道府県知事選挙が23日に告示されるのを皮切りに、4年に1回の統一地方選挙が始まります。第1回統一地方選は、⑨日本国憲法施行直前の(5)年4月に実施されました。《 》によると、2019年の前回、全選挙の当選者のうち女性は16.1%でした。各種の議員選ではいずれも⑩女性当選者の割合が過去最高でした。とはいえ決して高い数字とは言えず、今回さらにのびるかが注目されます。一方、⑪地方議員の「なり手不足」の問題は深刻です。(毎日小学生新聞2023年3月18日)

問1 メモ中の(1)～(5)にあてはまる語句や数字を答えなさい。

問2 メモ4中の《 》にあてはまる、国の行政組織や地方自治・通信などに関することをあつかう内閣の省庁は何ですか。

問3 下線部①について、かな文字を使って、宮中の生活や自然の変化を生き生きと表現した「枕草子」の作者はだれですか。

問4 下線部②について、この絵巻物に見られる宮廷の女性の正装で、何枚もの着物を重ねて着る服装を何と
いいますか。

問5 下線部③について、鎌倉幕府によって設置された、京都の警備や朝廷の監視を行う機関を何といいます
か。

問6 下線部④について、平氏または平清盛に関する文として誤っているものはどれですか。次のア～エから
1つ選び、記号で答えなさい。

※ 選択肢を訂正し掲載いたしております。

- ア. 保元の乱の時に、後白河天皇側として戦った。
- イ. 武士として初めて太政大臣の地位についた。
- ウ. 兵庫の港を改築し、朝鮮半島との貿易を活発に行った。
- エ. 一族で朝廷の重要な地位の多くをしめた。

問7 下線部⑤について、第一次世界大戦後の日本社会の様子に関する文として誤っているものはどれですか。
次のア～エから1つ選び、記号で答えなさい。

- ア. 郵便や電信の制度が整い、新橋・横浜間に鉄道が開通した。
- イ. タイピストなどの新しい仕事につく女性が増えていった。
- ウ. 輸出がのびなくなり、一気に不景気になった。
- エ. 労働者の生活を守るための労働運動が起こった。

問8 下線部⑥について、日本では1925年に制定された普通選挙法によって、選挙権を持つ人の資格はどのよ
うに定められましたか。簡単に説明しなさい。

問9 下線部⑦について、この2人が女性の地位向上を求めて1920年に設立した団体を何といいますか。

問10 下線部⑧について、この選挙に立候補することができる年齢として正しいものはどれですか。次の
ア～エから1つ選び、記号で答えなさい。

- ア. 18才以上 イ. 20才以上 ウ. 25才以上 エ. 30才以上

問11 下線部⑨について、日本国憲法の原則の1つである国民主権について書かれた文I・IIの正誤の組み合
わせとして正しいものを、次のア～エから1つ選び、記号で答えなさい。

- I. すべての裁判所の裁判官を裁判官として適しているか判断する。
- II. 憲法の改正を承認するための国民投票を行う。

- ア. I—正 II—正 イ. I—正 II—誤
ウ. I—誤 II—正 エ. I—誤 II—誤

問 12 下線部⑩について、現代の日本は女性当選者の割合が低くて女性の議員が少ない状態です。女性の議員が少ないことで起こる問題点を説明しなさい。

問 13 下線部⑪について、地方議員の議会のおもな仕事として**誤っているもの**はどれですか。次のア～エから1つ選び、記号で答えなさい。

- ア. 地方公共団体の仕事が正しく行われているかどうかを調査する。
- イ. 法律を制定, 改正, 廃止する。
- ウ. 地方公共団体の税金の使いみちを決める。
- エ. 地方公共団体の予算を決める。

(下 書 き 用 紙)

社会の試験問題は次に続きます。

【6】日本の歴史上における争いについての文章を読んで、あとの問いに答えなさい。

歴史を学ぶ中で、もっとも多く出てくる場面の1つが「争い」です。

日本では、①弥生時代になるとむらとむらの間で争いが起こるようになりました。この時代の代表的な遺跡である、(1) 県の吉野ヶ里遺跡は、外からの侵入を防ぐために集落のまわりが大きな二重の堀やさくで囲まれています。

平安時代の終わりにになると、朝廷や貴族に仕え、警備などにあたっていた人々が勢力をのぼして武士となり、一族のかしらを中心に武士団を結成する者も出てきました。その中でも強大な勢力をもったのが、②源氏と平氏です。両者は朝廷や貴族の政治の実権をめぐる争いに巻き込まれ、12世紀末にはたがいに入り乱れて戦いました。

16世紀後半になると、全国各地で力をもった大名があらわれ、彼らは③戦国大名と呼ばれて勢力を争いました。なかでも④1575年に起こった(2)の戦いでは、武田軍と戦った織田・徳川連合軍が多数の鉄砲を使用したことで知られています。

また、戦争という点においては日本がただ1つの原爆の被爆国であることを忘れてはなりません。⑤太平洋戦争が始まると、政府は人々の戦争協力を得るために戦時体制を強めていき、食料や衣類なども国が管理する切符制・(3) 制になっていきました。原爆投下から75年以上がたち、2023年の5月には(4) 県でG7サミットが開かれ、各国の代表者たちが平和記念資料館を訪れました。

⑥平和を世界に発信していくことは、私たちが歴史を学ぶ意味の1つであるということが出来ます。

問1 文中の(1) ~ (4) にあてはまる語句を答えなさい。

問2 下線部①について、弥生時代に関する文として正しいものはどれですか。次のア~エから1つ選び、記号で答えなさい。

- ア. 西日本を中心に米づくりが広まり、福岡県の登呂遺跡などが有名である。
- イ. 主に稲の穂をかり取るために、石包丁が使用された。
- ウ. 縄目の文様がついた土器を使って、食べ物を煮炊きした。
- エ. 貝がらや動物の骨などを捨てる場所として、貝塚がつくられた。

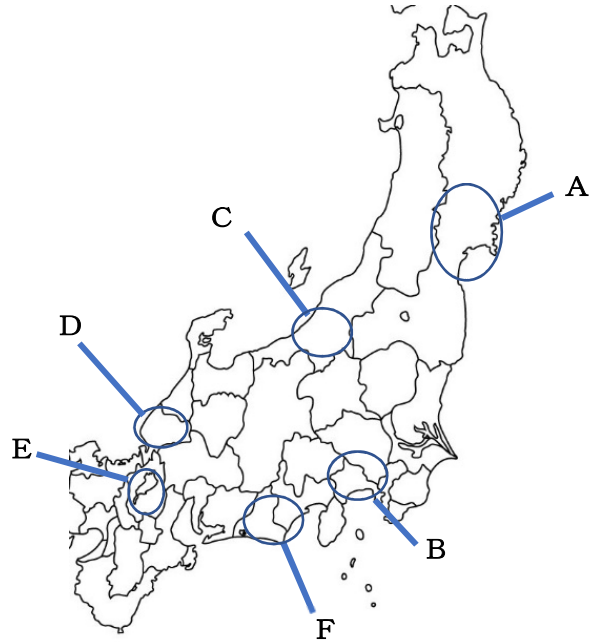
問3 下線部②について、源頼朝は鎌倉で武士による政治のしくみを整えました。鎌倉は、三方が山に囲まれ、敵にせめこまれにくい地形をしています。そのため、内陸との交通のために、せまくてけわしい山道が幕府によってつくられました。このような道を何といいますか。

問4 下線部③について、下の地図中のA～Fは主な戦国大名が勢力を持っていた地域を表しています。次のI・IIの文で説明されている戦国大名と、その勢力を持っていた地域の組み合わせとして正しいものを、下の表中のア～カから1つ選び、記号で答えなさい。

I：16世紀の半ばに、川中島の戦いで武田信玄と計5回戦った。

II：1560年の桶狭間の戦いで、織田信長に敗れた。

	I	II
ア	伊達氏・A	朝倉氏・D
イ	伊達氏・B	朝倉氏・E
ウ	北条氏・B	浅井氏・E
エ	北条氏・C	浅井氏・F
オ	上杉氏・A	今川氏・D
カ	上杉氏・C	今川氏・F



問5 下線部④について、鉄砲が日本に伝わったことで戦い方にどのような変化が起こったと考えられますか。鉄砲が伝わる前の戦法にふれながら、簡単に説明しなさい。

問6 下線部⑤について、1945年4月にアメリカ軍が上陸し多くの住民を巻きこんだ地上戦が行われたのはどこですか。県名を答えなさい。

問7 下線部⑥について、日本の平和主義は日本国憲法第9条に示されています。次の日本国憲法第9条の条文中の(あ)・(い)にあてはまる語句を答えなさい。

1. 日本国民は、正義と秩序を基調とする国際平和を誠実に希求し、国権の発動たる戦争と、(あ)による威嚇又は(あ)の行使は、国際紛争を解決する手段としては、永久にこれを放棄する。
2. 前項の目的を達するため、陸海空軍その他の(い)は、これを保持しない。国の交戦権は、これを認めない。

(社会の試験問題は以上です。)